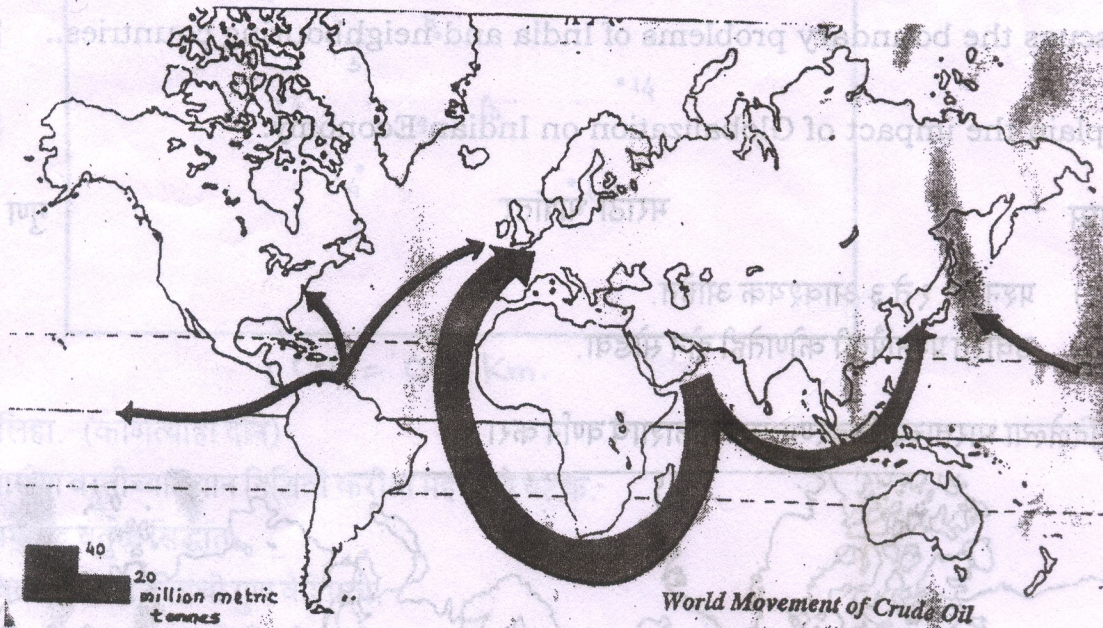


- N. B. : 1) Q. No. 1. to 3 are compulsory.
2) Attempt any Two questions from the rest.

Q. 1. a) Interpret the given distribution map of India in detail.

[05]



b) Fill in the blanks.


[05]

- 1) introduced the Rural landuse Model in 1826.
- 2) is one of the Problem related to urbanization.
- 3) explain the Sector Model in 1939.
- 4) Linear Settlement pattern develops along the
- 5) line is border between India and China.

Q. 2. Interpret and calculate the Rn Statistic for given settlement pattern.

[10]

Placement of settlements



1 cm = 0.5 Km.

Q. 3. Write Short Note on. (Any Two)

[10]

- 1) Important factors for site of Rural settlements.
- 2) Concentric Zone Model.
- 3) Characteristic features of developing countries.

4) Impact of Globalization on Agriculture.

- Q. 4. Explain in detail the pattern of Rural settlements with suitable diagram. [10]
- Q. 5. Explain the functional classification of Towns in detail with examples. [10]
- Q. 6. Discuss the boundary problems of India and neighbouring countries.. [10]
- Q. 7. Explain the impact of Globalization on Indian Economy. [10]

वेळ : ३ तास

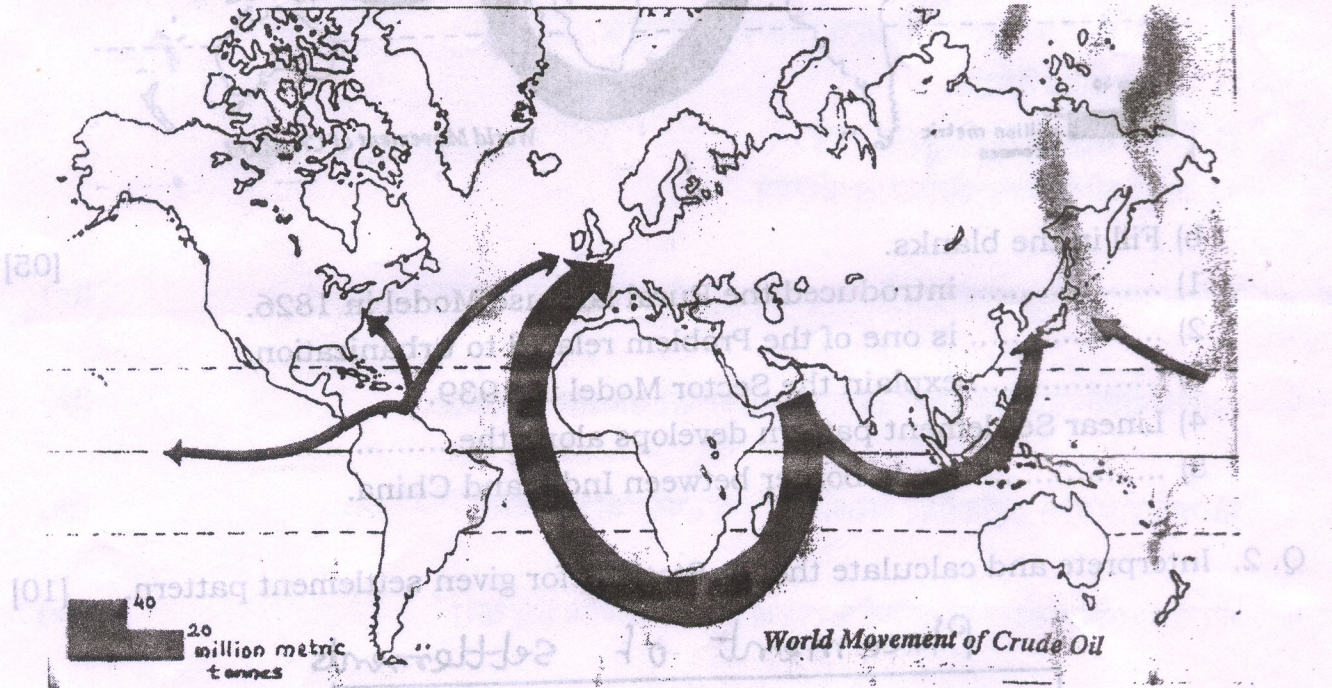
मराठी भाषांतर

गुण : १००

- सूचना : १) प्रश्न क्र. १ ते ३ आवश्यक आहेत.
२) उर्वरित प्रश्नांपैकी कोणतेही दोन सोडवा.

प्र. १. अ) दिलेल्या भारताच्या वितरणात्मक नकाशाचे वर्णन करा.

(०५)



ब) रिकाम्या जागी योग्य शब्द भरा.

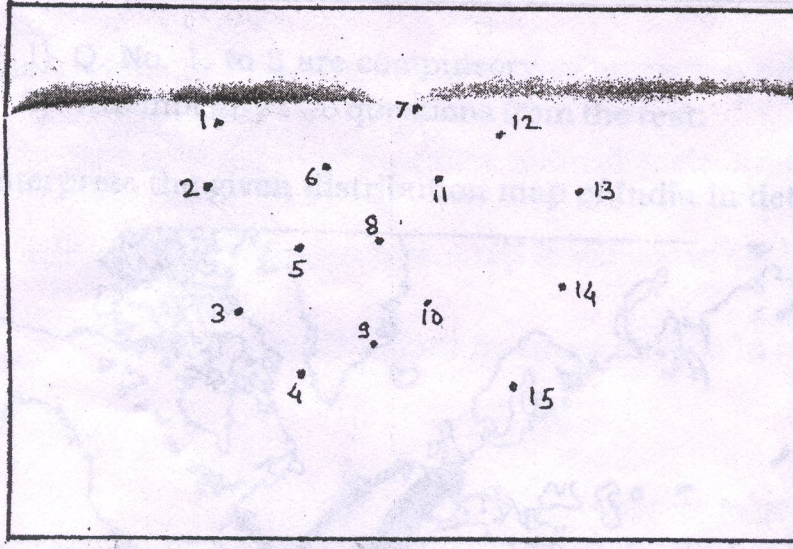
(०५)

- १) याने १८२६ मध्ये ग्रामीण भूमी उपयोजनाचा सिद्धांत मांडला.
२) हि नागरिकरणासंबंधीत एक समस्या आहे.
३) याने १९३९ मध्ये वर्तुळ विभाग सिद्धांत स्पष्ट करा.
४) लगत रेषीय वस्ती आकृतीबंध तयार होतो.
५) रेषा ही भारत व चीन दरम्यान सिमा आहे.

प्र. २. दिलेल्या वस्ती आकृतीबंधाकरीत निकटवर्तीयता काढा व वर्णन करा.

(१०)

Placement of settlements



1 cm = 0.5 Km.

प्र. ३. टिपालिहा. (कोणत्याही दोन)

(१०)

- १) ग्रामीण वस्तीच्या स्थान निश्चिती करीता महत्वाचे घटक.
- २) समकेंद्र वर्तुळ सिद्धांत.
- ३) विकसनशिल देशांची गुण वैशिष्ट्ये.
- ४) जागतीकीकरणाचा शेतीवरील परिणाम.

प्र. ४. सुयोग्य आकृतीच्या आधारे ग्रामीण वस्तीचे आकृतीबंध सविस्तर स्पष्ट करा.

(१०)

प्र. ५. शहरांचे कार्यानुसार वर्गिकरण उदाहरणांच्या आधारे सविस्तर स्पष्ट करा.


(१०)

प्र. ६. भारताचे शेजारील राष्ट्रांबरोबर असणाऱ्या सिमा समस्यांची चर्चा करा.

(१०)

प्र. ७. भारतीय अर्थव्यवस्थेवर जागतीकीकरणाचा झालेला परिणाम स्पष्ट करा.

(१०)



1 cm = 0.5 Km.

3. Write Short Note on. (Any Two)

- 1) Important factors for site of Rural settlements.
- 2) Concentric Zone Model.

[10]